


1. Aşağıdaki görsellerden hangisi Dünya'mızın şeklini ifade eder?



2. I- Dünya'mız küre şeklindedir.


II- Dünya'mızın küre şeklinde olduğu çok eski zamanlardan beri biliniyordu.

III- Günümüzde Dünya'mızın şekliyle ilgili tartışmalar devam etmektedir.

Yukarıdaki numaralı cümlelerin hangisinde verilen bilgi doğrudur?

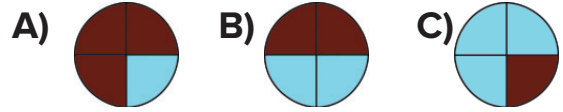
A) III B) II C) I

3. Geçmişte Dünya'nın şeklinin yuvarlak olduğunu iddia eden bilim insanları arasında aşağıdakilerden hangisi **yoktur**?



4. Dünya üzerinde kara ve denizlerin dağılışını doğru olarak gösteren model aşağıdakilerden hangisidir?


( sular  karalar)



5. Aşağıdakilerden hangisi, Dünya'mızı çepeçevre saran gaz tabakasının adıdır?

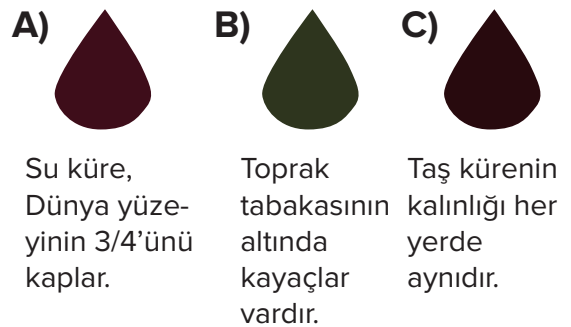
A) taş küre B) atmosfer
C) su küre

6.

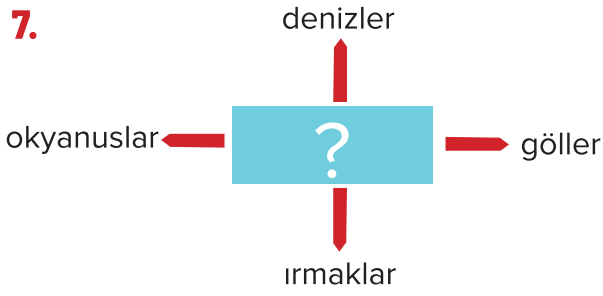


Yanlış yargının yazılı olduğu çuval üzerinde antrenman yapacağım.

İfadesine göre boksör hangi çuval üzerinde antrenman yapar?



7.



Yukarıda verilen ilişkiye göre, “?” ile gösterilen yere hangisi yazılmalıdır?

- A) su küre
- B) hava küre
- C) taş küre

8.

- Su küre
- Ateş küre
- Taş küre
- Hava küre

Yukarıdakilerden kaç tanesi, Dünya'nın gözlemleyebildiğimiz katmanlarından?

- A) 2
- B) 3
- C) 4

9.

- | | | |
|--|----|-----------|
| Dünya'nın çevresini saran gaz bulutudur. | •• | taş |
| Kayaçlardan ve toprak örtüsünden oluşmuştur. | •• | yerkabuğu |
| Kayaların zamanla parçalanmasıyla oluşur. | •• | atmosfer |

Yukarıdaki sözcükler, tanımlarıyla eşleştirilecektir. Doğru eşleştirme nasıl olur?

- A) B) C)

10.



Yukarıdaki çocuklardan hangilerinin söyledikleri, Dünya'nın yuvarlak olduğunun kanıtıdır?

- A) B) C)

11. Aşağıdakilerden hangisi Dünya'nın yuvarlak olduğunun kanıtıdır?

- A) Gece ve gündüzün birbirini takip etmesi
- B) Hep aynı yöne giden bir uçağın tekrar başlangıç noktasına gelmesi
- C) Dünya yüzeyinde suların karalardan daha fazla yer kaplaması