




1. okul → ▲■▲■
sınıf → ■▲■▲■
öğrenci → ▲■■▲■
sergi → ?

Yukarıdaki eşleştirmeye göre
"?" ile gösterilen yere hangisi
yazılmalıdır?

- A) ■▲■▲■ B) ■▲■▲■
C) ▲■▲■▲■

2. Zehra'nın en sevdiği meyvenin
adındaki ünlü harflerin sayısı,
ünsüz harflerin sayısına eşittir.

Buna göre aşağıdaki meyve-
lerden hangisi, Zehra'nın en
sevdiği meyve olabilir?

- A)  B)  C) 

3. Aşağıdaki kelimelerden han-
gisi hecelerine **yanlış** ayrıl-
mıştır?

- A) gra-fi-ker
B) s-por-cu
C) İ-ne-göl

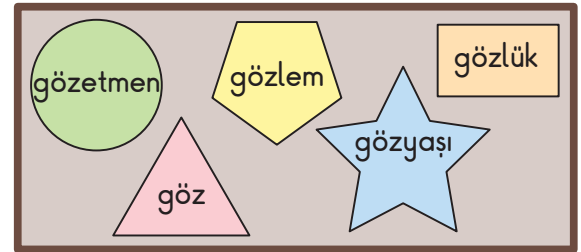
4.

..... Kırkla- reli Şanlıur- fa
..... Adıyam- an Aksar- ay
..... Osman- iye An- talya

Yukarıda satır sonuna sığma-
yan şehir adlarından kaç ta-
nesi, hecelerine doğru olarak
ayrılmıştır?
















- A) 5 B) 4 C) 3

5.

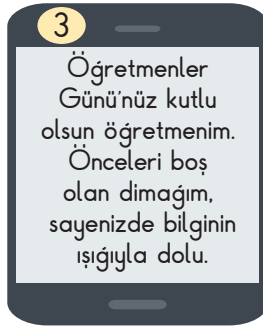
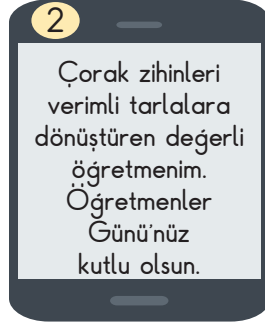
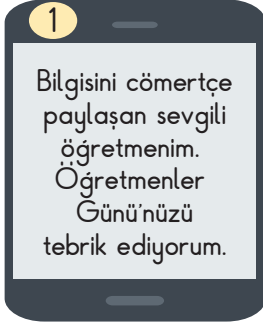


Panodaki kağıtlarda yazılı
olan sözcükler, sözlükteki sıra-
larına göre sıralanacaktır.

Buna göre, doğru sıralama
hangisi olur?

- A)     
B)     
C)     

6.



Öğretmenine, Öğretmenler Gününde mesaj göndererek Öğretmenler Gününü kutlayan Hikmet, mesajında zıt anlamlı sözcükleri birlikte kullanmıştır.

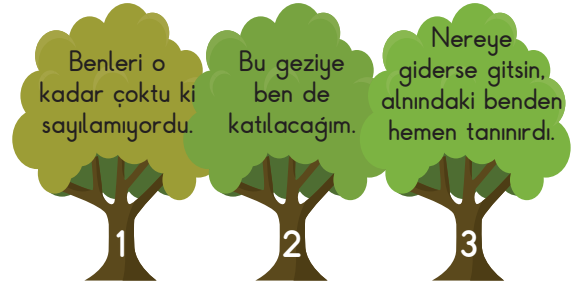
Buna göre, yukarıdaki numaralı telefonlardaki mesajlardan hangisi Hikmet'e ait olamaz?

A) 1 B) 2 C) 3

7. Aşağıdaki sözcük çiftlerinin hangisinde farklı bir anlam ilişkisi vardır?

A) kuzey - güney
B) çağrı - davet
C) geçici - kalıcı

8.



Kaç numaralı ağaçtaki cümlede, "ben" kelimesi farklı bir anlamda kullanılmıştır?

A) 1 B) 2 C) 3

9.



Toplarda yazılı sözcükler zıt anlamlılarıyla eşleştirilecektir.

Kaç top açıkta kalır?

A) 1 B) 2 C) 3

10.



Hem eş hem zıt anlamlısı bulunan eş sesli bir sözcük söyleyebilir misiniz?

Aşağıdaki öğrencilerden hangisi öğretmenin sorusuna doğru cevap vermiştir?

