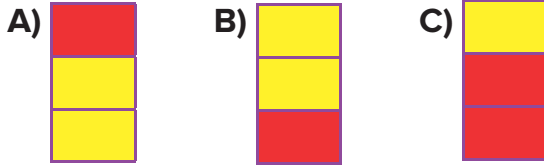


1.

	D/Y
Görme organımız gözdür.	
Varlıkları karanlıkta göremeyiz.	
Işık kaynaklarının tamamı doğal ışık kaynaklarıdır.	

Yukarıdaki tabloda; cümle doğru ise karşısındaki kısım sarıya, yanlış ise kırmızıya boyanarak Doğru/Yanlış kısmı dolduruluyor.

Buna göre, bu tablonun Doğru/Yanlış kısmı aşağıdakilerden hangisi gibi olur?



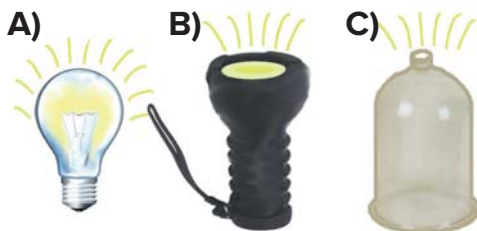
2.



Yukarıdaki varlıklardan kaç tanesi ışık kaynağı **değildir**?

A) 1 B) 2 C) 3

3. Aşağıdakilerden hangisi bir yönüyle diğerlerinden farklıdır?



4.

Işık olmadan göremeyiz varlıkları
Şimşek, yıldırım, Güneş,
Işık kaynağıdır hep,
Kolaylaştırırlar hayatımızı

Yukarıdaki şiirin dizelerinin kaçında ışık ile ilgili doğru bilgiler verilmiştir?

A) 4 B) 3 C) 2

5.



Hasan ve Hüseyin kardeşler, önlerinde yazılı olan cümleden başlayarak cümlelerin doğru veya yanlışlığına karar verip ilerleyeceklerdir.

Hasan ve Hüseyin, yollarının sonunda hangi ışık kaynağına ulaşırlar?

A)  B)  C) 

6.



İnsan kulağı her sesi işitebilir.



Sesin duyulmasını sağlayan özelliği şiddetidir.



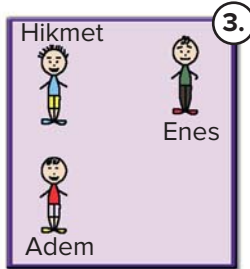
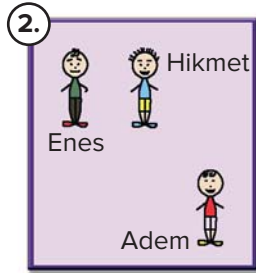
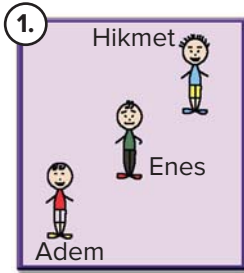
Şiddetli sesler dikkatimizi dağıtır ve işitme kaybına sebep olur.

Yukarıda **yanlış** bilgi veren öğrenci Eda Nur'un kardeşidir.

Buna göre Eda Nur'un kardeşi aşağıdakilerden hangisidir?



7.



Kaç numaralı resimde Enes, Adem'i daha iyi duyar?

A) 3

B) 2

C) 1

8.



Buradan sadece doğal ses kaynağı yazılı afiş taşıyan penguenler geçebilir.

Yukarıdaki konuşma balonunda kutup ayısının konuşması görünüyor.

Buna göre, aşağıdaki penguenlerden kaç tanesi kutup ayısının yanından geçebilir?



A) 4

B) 3

C) 2

9. Aşağıdaki ses kaynaklarından hangisi insan sesiyle aynı gruptadır?



10. Aşağıdakilerden hangisi **yanlıştır**?

A) Her ses kaynağı aynı zamanda bir ışık kaynağıdır.

B) Ses çıkaran varlıklara ses kaynağı adı verilir.

C) Her sesin bir kaynağı vardır.