

1.

- ❁ su küre
- ❁ ateş küre
- ❁ taş küre
- ❁ hava küre

Yukarıdakilerden kaç tanesi, Dünya'nın gözlemleyebildiğimiz katmanlarından?

- A) 2 B) 3 C) 4

2.



Ben ünlü boksör Hikmet Koç. Yanlış yargının yazılı olduğu çuval üzerinde antrenman yapacağım.

Verdiği bilgiye göre Boksör Hikmet Bey, hangi çuval üzerinde antrenman yapar?

A)

Su küre, Dünya yüzeyinin ¾'ünü kaplar.

B)

Toprak tabakasının altında kayalar vardır.

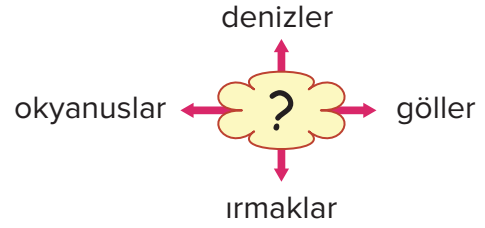
C)

Taş kürenin kalınlığı her yerde aynıdır.

3. Aşağıdakilerden hangisi, Dünya'mızı çepeçevre saran gaz tabakasının adıdır?

- A) taş küre B) atmosfer
C) su küre

4.



Yukarıda verilen ilişkiye göre, "?" ile gösterilen yere hangisi yazılmalıdır?

- A) su küre B) hava küre
C) taş küre

5.



Dünya'nın çevresini saran gaz bulutudur.

Kayaçlardan ve toprak örtüsünden oluşmuştur.

Kayaların zamanla parçalanmasıyla oluşur.

Yukarıdaki toplar, üzerlerinde yazılı olan kavramın tanımının yazılı olduğu potaya atılacaktır.

Doğru eşleştirme hangisi olur?

- A)
- B)
- C)

6.

Yer kabuğunun üzerini ince bir örtü gibi kaplayan toprak, yüzlerce yılda oluşur. Canlılar için hayati öneme sahip olan toprağın kirlenmesine karşı önlemler almalıyız.

Aşağıdakilerden hangisi, toprak kirliliğine karşı alınması gereken önlemlerden **değildir**?

- A) Tarım alanları ekilmemelidir.
B) Atık piller toprağa rastgele atılmamalıdır.
C) Fabrika atıkları uygun şekilde depolanmalı, toprağa atılmamalıdır.

7.

Eski zamanlarda insanlar, Dünya'nın şekliyle ilgili farklı görüşlere sahiptiler. Sayıları fazla olmamakla birlikte, Dünya'nın yuvarlak olduğunu iddia eden bilginler de vardı.

Aşağıdakilerden hangisi, yukarıda sözü edilen bilginlerden birisi **değildir**?

A)




Pisagor

B)



Evliya
Çelebi

C)



Biruni

8.

- I. hava
II. su
III. toprak

Yukarıdakilerden hangilerinin temizliği, canlılar için yaşamsal öneme sahiptir?

- A) I, II ve III B) I ve II C) II ve III

9.

Taşküre dan oluşmaktadır. Kayaçların sıcaklık, rüzgâr, yağışlar gibi etkilerle parçalanması sonucu oluşur.

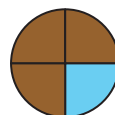
Tahtadaki cümlelerde noktalı yerlere hangileri yazılmalıdır?

- A) kayaçlar – toprak
B) çakıllar – kum
C) sular – hava

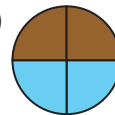
10. Dünya üzerinde kara ve denizlerin dağılışını doğru olarak gösteren model aşağıdakilerden hangisidir?

(■ sular, ■ karalar)

A)



B)



C)

