

Adı Soyadı:

Aşağıdaki kesirlere uygun şekiller çizin.

$$\frac{7}{12}$$

$$\frac{8}{15}$$

$$\frac{9}{20}$$




$$6/12$$

$$3/14$$

$$8/10$$



Aşağıdaki şekillere uygun kesir ifadelerini altlarına yazın.



Aşağıdaki kesirleri sayı doğrusunda gösterin.

$$\frac{2}{9}$$



$$5/8$$



$$\frac{6}{10}$$



$$3/6$$



Aşağıdaki kesirleri büyükten küçüğe doğru sıralayın.

$$\frac{3}{10} \quad \frac{7}{10} \quad \frac{4}{10} \quad \frac{9}{10}$$

$$12/15 \quad 8/15 \quad 6/15 \quad 14/15$$

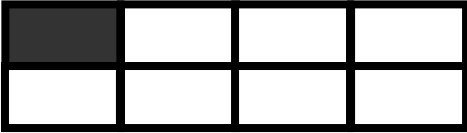
$$2\frac{4}{5} \quad 1\frac{7}{8}$$

$$4\frac{11}{12} \quad 4\frac{3}{12}$$


$$15\frac{22}{30} \quad 4\frac{67}{80}$$

Aşağıdaki soruları çözün.

1- Taralı alan 15 birim ise şeklin tamamı kaçtır?



2- Taralı alan 18 birim ise şeklin tamamı kaçtır?

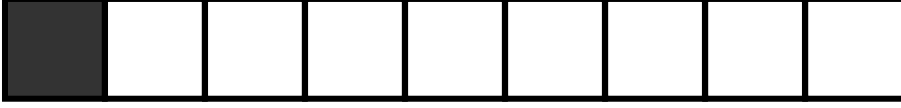


3- Taralı alan 24 birim ise şeklin tamamı kaçtır?




Aşağıdaki soruları çözün.

1-Şeklin tamamı 36 ise birim kesri kaçtır?




2- Şeklin tamamı 180 ise birim kesri kaçtır?




3- Şeklin tamamı 160 ise taralı alan kaçtır?



4- Şeklin tamamı 72 ise taralı alan kaçtır?

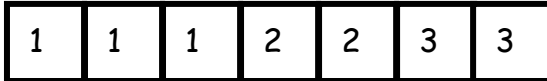


5- Şeklin tamamı 192 ise taralı alan kaçtır?



Aşağıdaki soruları çözün.

1- Musti 98 sayfalık kitabın 1. gün  $\frac{3}{7}$  sini 2. gün  $\frac{2}{7}$  sini ve 3. gün geri kalan sayfaların tümünü okuyor. Musti 3. gün kitabın kaçta kaçını okumuş ve kaç sayfa okumuştur? Şekil üzerinde gösterin.



2- Azra 195 sayfalık kitabın 1. gün  $\frac{4}{15}$  ni 2. gün  $\frac{3}{15}$  ni okuyor. Azra'nın okuması gereken kaç sayfası kaldı? ( kesir ifadesini ve şeklini çizin)

3- Yusuf 135 yumurtanın  $\frac{2}{5}$  ile pasta yaptı.Geriye kalan yumurtaların 22 tanesi ile kurabiye yaparsa geriye kaç yumurta kalır?

4- 325 metrelik yolun Dila  $\frac{1}{5}$  ni gidiyor.Dila'nın gitmesi gereken kaç metresi kalmıştır?

5- 1032 metrelik yolun Ceren  $\frac{3}{8}$  ni , Eda ise 400 metresini giderse; kim kaç metre diğer arkadaşının önünde olur?

Ceren 

Eda 

6- İrem 5400 metrelik yolun  $\frac{4}{12}$  sini, Sare 2000 metresinin giderse.Hangi kız diğerinin kaç metre arkasında olur?

İrem 

Sare 

7- Eren 8580 sayfalık kitabın  $\frac{7}{13}$  nü okuduktan sonra geri kalanı 4 günde bitirmek isterse günde kaç sayfa okumalı?

8- Serhat 104 şekerin  $\frac{4}{13}$  nü İbo'ya veriyor.Geri kalanların  $\frac{4}{18}$  ni Kasım'a veriyor.Buna göre Serhat'ın kaç şekeri kalır?