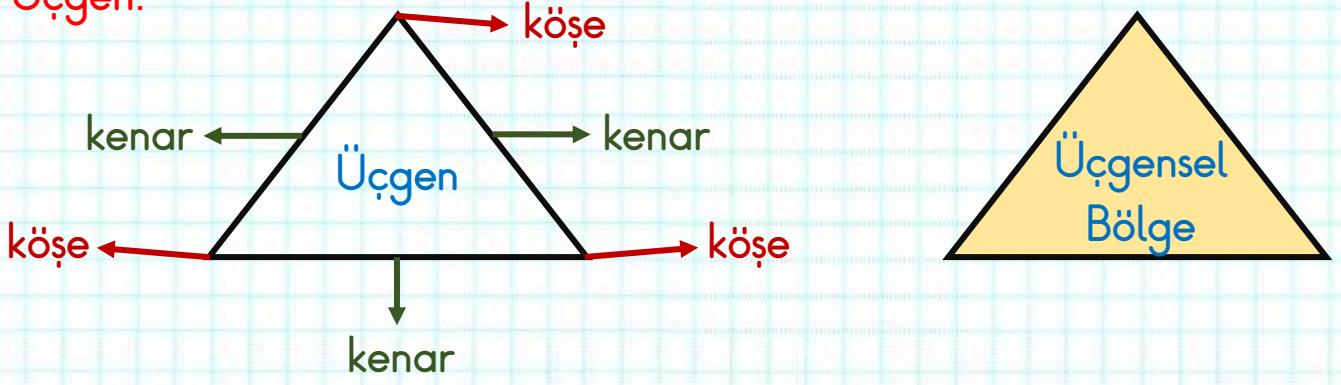


Geometrik Şekiller Konu Anlatımı

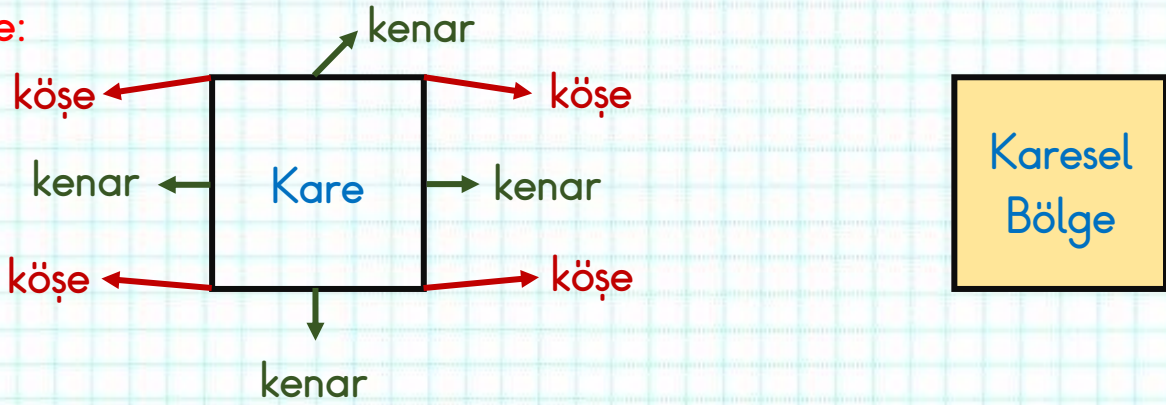
Üçgen:



❖ Üçgenin üç kenarı vardır.

❖ Üçgenin üç köşesi vardır.

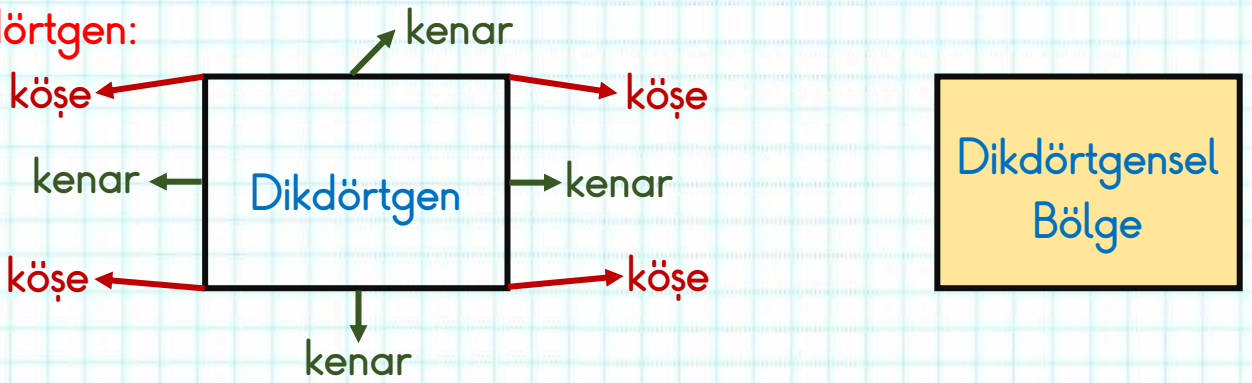
Kare:



❖ Karenin dört eşit kenarı vardır.

❖ Karenin dört köşesi vardır.

Dikdörtgen:



❖ Dikdörtgenin dört kenarı vardır.

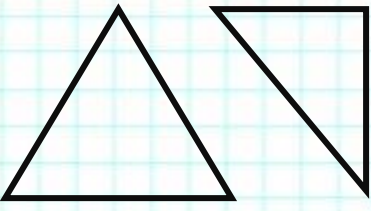
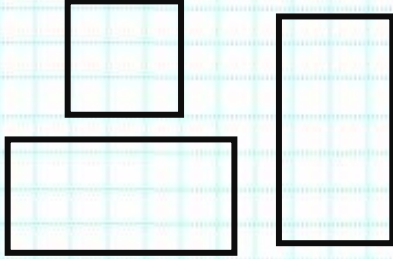
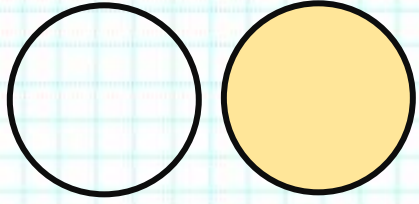
❖ Dikdörtgenin dört köşesi vardır.

Çember ve Daire:



❖ Çember ve dairenin kenarı ve köşesi yoktur.

Geometrik şekillerde iki kenarın birleştiği yere **köşe** denir.

Üç Köşeliler	Dört Köşeliler	Köşesizler
		

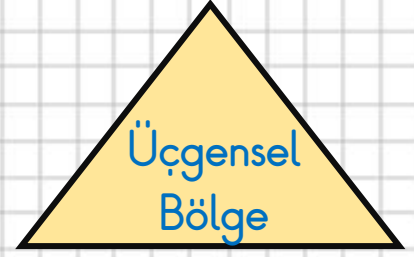
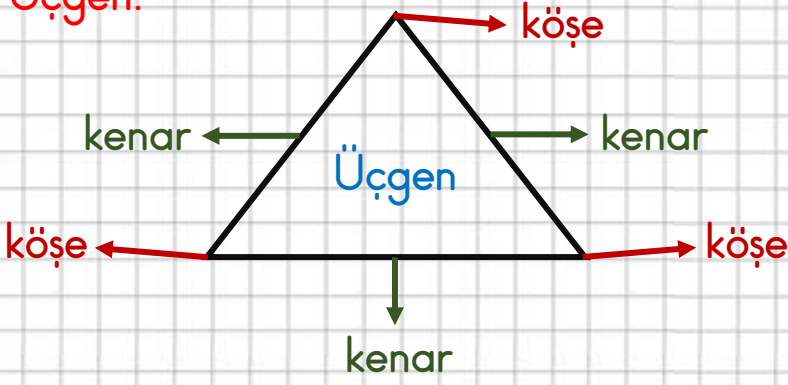
Bir geometrik şekilde **kenar** sayısı **köşe** sayısına **eşittir**.

	Kenar Sayısı	Köşe Sayısı
Üçgen	3	3
Kare	4	4
Dikdörtgen	4	4
Çember	0	0

Geometrik Şekiller Konu Anlatımı

PDF Eraser Free

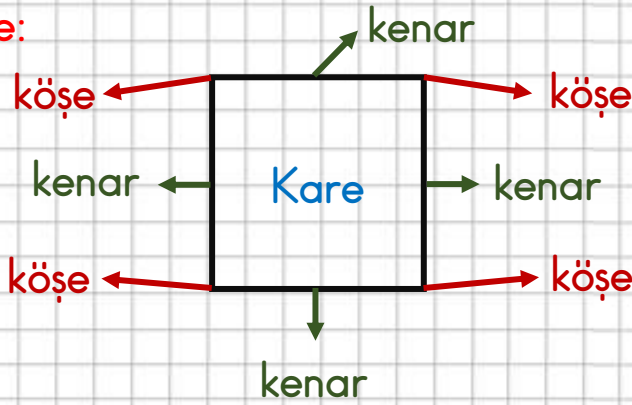
Üçgen:



❖ Üçgenin **üç kenarı** vardır.

❖ Üçgenin **üç köşesi** vardır.

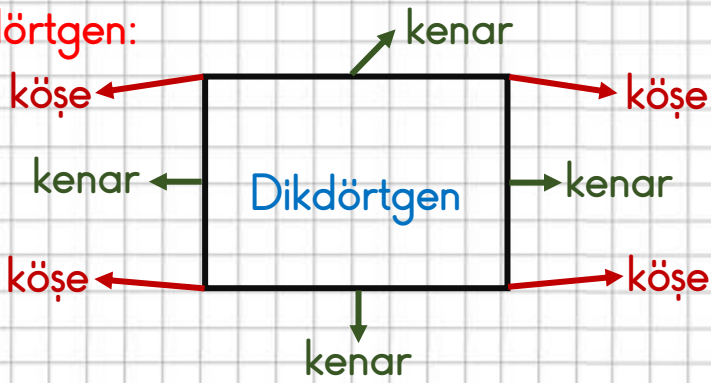
Kare:



❖ Karenin **dört eşit kenarı** vardır.

❖ Karenin **dört köşesi** vardır.


Dikdörtgen:



❖ Dikdörtgenin **dört kenarı** vardır.

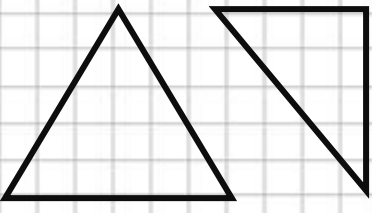
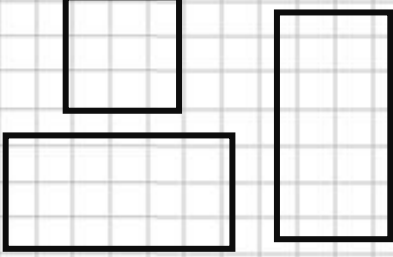
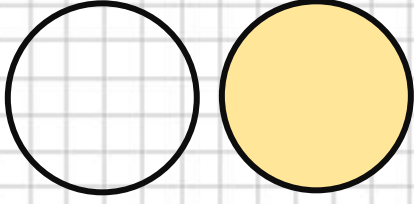
❖ Dikdörtgenin **dört köşesi** vardır.

Çember ve Daire:



❖ Çember ve dairenin **kenarı ve köşesi yoktur.**

Geometrik şekillerde iki kenarın birleştiği yere **köşe** denir.

Üç Köşeliler	Dört Köşeliler	Köşesizler
		

Bir geometrik şekilde **kenar** sayısı **köşe** sayısına **eşittir**.

	Kenar Sayısı	Köşe Sayısı
Üçgen	3	3
Kare	4	4
Dikdörtgen	4	4
Çember	0	0