

4.SINIF 15.HAFTA HAFTALIK DEĞERLENDİRME

AD SOYAD:

MATEMATİK

- 1) Aşağıdaki bölme işlemlerinde bölünen ve bölünen en yakın onluğa yuvarlayarak bölümü tahmin ediniz. Tahmininizi işlem sonucuyla karşılaştırarak sonuç farkını bulunuz.

İşlem sonucu	Tahmini sonucu	Sonuç Farkı
$\begin{array}{r} 720 \overline{) 16} \\ \underline{} \\ \end{array}$		
$\begin{array}{r} 456 \overline{) 24} \\ \underline{} \\ \end{array}$		

- 2) Aşağıdaki bölme işlemlerini yapınız. Yanındaki kutulara da çarpma işlemi yaparak bölme işlemlerinin doğruluğunu kontrol ediniz.

$\begin{array}{r} 156 \overline{) 12} \\ \underline{} \\ \end{array}$		$\begin{array}{r} 342 \overline{) 9} \\ \underline{} \\ \end{array}$	
--	--	---	--

- 3) Aşağıdaki bölme işlemlerini yapınız.

$$\begin{array}{r} 6309 \overline{) 3} \\ \underline{} \\ \end{array} \quad \begin{array}{r} 8515 \overline{) 5} \\ \underline{} \\ \end{array} \quad \begin{array}{r} 891 \overline{) 27} \\ \underline{} \\ \end{array}$$

- 4) Aşağıdaki bölme işlemlerini zihinden yapınız.

÷	76000	504000	124000
10			
100			
1000			

TÜRKÇE

- 1) kalay kale ? kalp

Yukarıdaki kelimeler sözlük sırasına göre sıralanmıştır.

Buna göre " ? " işareti ile gösterilen yere aşağıdaki kelimelerden hangisi yazılmalıdır?

- A) Kalas B) Kalem
C) Kanepe D) Kaş

- 2) Aşağıdaki cümlelerin hangisinde sebep-sonuç ilişkisi vardır?

- A) İnsanlar için besinler önemlidir.
B) Bir yılda dört kez tatile gitti.
C) Ayağı kırıldığı için yürüyemiyor.
D) Hayvanat bahçesi evlerine uzaktı.

- 3) "boş " kelimesi aşağıdaki cümlelerden hangisinde "dolmuş" kelimesinin zıt anlamı olarak kullanılmıştır?

- A) Boş sözlerle herkesi kandırıyordu.
B) Boş boş konuşup duruyordu.
C) Dolabın boş olduğunu görünce üzüldü.
D) Herkesi kırmamasından boş bir insan olduğu belliydi.

- 4) Aşağıdaki eş sesli sözcükleri diğer anlamlarıyla cümle içinde kullanalım.

Evin bahçesine kuyu kazdılar.

Esra 'nın dedesi hala sağ mı?

Sınıftaki herkes en az bir dil biliyordu.

SOSYAL BİLGİLER

1) Aşağıdaki cümlelerden doğru olanların başına D ,yanlış olanların başına Y yazınız.

(...) Doğal afetleri önleyemeyiz ancak tedbirlerle etkisini azaltabiliriz.

(...) Fiziki haritalarda dağlar yeşil renk ile gösterilir.

(...) Ülkemiz dünyanın önemli deprem kuşaklarından biri üzerinde yer alır.

(...) Hava sıcaklığı metre ile ölçülür.

(...) Deprem sırasında en güvenli yerler pencere önü ve balkonlardır.

2) Aşağıdaki eşleştirmeleri yapınız.

1. Yağmur

(...) Doğal unsur

2. Ova

(...) Hava olayı

3. Sel

(...) Yön bulma

4. Kutup Yıldızı

(...) Doğal afet

FEN BİLİMLERİ

1) Aşağıdaki boşlukları doldurunuz.



Birbirlerine kuvveti uygular



Birbirlerine kuvveti uygular

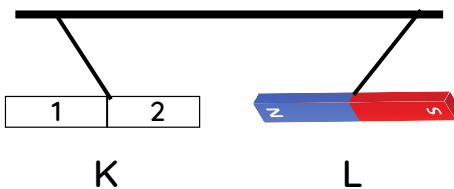
2) Mıknatısların hayatımızdaki kullanım alanlarına 5 örnek yazınız.

- 1) _____
- 2) _____
- 3) _____
- 4) _____
- 5) _____

2) Aşağıdaki cümlelerden doğru olanların başına D ,yanlış olanların başına Y yazınız.

- Mıknatıslar kapı zillerinde bulunur.
- Spor yapanlar, sigara ve alkolden etkilenmezler.
- İki parçaya ayrılan mıknatısın kutupları kaybolur.
- Mıknatısın cisimlere uyguladığı kuvvet, temas gerektirmeyen kuvvettir.
- Proteinler, yalnızca hayvansal besinlerde bulunur.
- Son kullanma tarihi, besinden besine farklılık gösterir.
- Cisimlere hareket yönünün tersine kuvvet uygularsak cisim hızlanır.
- Mıknatıs bazı elektronik eşyalara zarar verir.
- Oyun hamuru esnek bir maddedir.
- Futbolcunun kendine doğru gelen topa vurması yön değiştirme hareketidir.

3) K ve L mıknatısları konumdaki gibi asılı kaldığına göre hangi ifade doğrudur?



	1	2	Kuvvet
A)	N	S	itme
B)	S	N	çekme
C)	N	S	çekme
D)	S	N	itme

4.SINIF 15.HAFTA HAFTALIK DEĞERLENDİRME

AD SOYAD:

MATEMATİK

- 1) Aşağıdaki bölme işlemlerinde bölünen ve böleni en yakın onluğa yuvarlayarak bölümü tahmin ediniz. Tahmininizi işlem sonucuyla karşılaştırarak sonuç farkını bulunuz.

İşlem sonucu	Tahmini sonucu	Sonuç Farkı
$\begin{array}{r} 720 \overline{) 16} \\ \underline{-64} \\ 80 \\ \underline{-80} \\ 00 \end{array}$	$\begin{array}{r} 720 \overline{) 20} \\ \underline{-60} \\ 120 \\ \underline{-120} \\ 000 \end{array}$	$\begin{array}{r} 45 \\ \underline{-36} \\ 09 \end{array}$
$\begin{array}{r} 456 \overline{) 24} \\ \underline{-24} \\ 216 \\ \underline{-216} \\ 000 \end{array}$	$\begin{array}{r} 460 \overline{) 20} \\ \underline{-40} \\ 060 \\ \underline{-60} \\ 00 \end{array}$	$\begin{array}{r} 23 \\ \underline{-19} \\ 04 \end{array}$

- 2) Aşağıdaki bölme işlemlerini yapınız. Yanındaki kutulara da çarpma işlemi yaparak bölme işlemlerinin doğruluğunu kontrol ediniz.

$\begin{array}{r} 156 \overline{) 12} \\ \underline{-12} \\ 036 \\ \underline{-36} \\ 000 \end{array}$	$12 \times 13 = 156$	$\begin{array}{r} 342 \overline{) 9} \\ \underline{-27} \\ 072 \\ \underline{-72} \\ 000 \end{array}$	$9 \times 38 = 342$
---	----------------------	--	---------------------

- 3) Aşağıdaki bölme işlemlerini yapınız.

$\begin{array}{r} 6309 \overline{) 3} \\ \underline{-6} \\ 03 \\ \underline{-3} \\ 0009 \\ \underline{-9} \\ 0 \end{array}$	$\begin{array}{r} 8515 \overline{) 5} \\ \underline{-5} \\ 35 \\ \underline{-35} \\ 0015 \\ \underline{-15} \\ 0000 \end{array}$	$\begin{array}{r} 891 \overline{) 27} \\ \underline{-81} \\ 081 \\ \underline{-81} \\ 000 \end{array}$
---	--	---

- 4) Aşağıdaki bölme işlemlerini zihinden yapınız.

÷	76000	504000	124000
10	7600	50400	12400
100	760	5040	1240
1000	76	504	124

TÜRKÇE

- 1) kalay kale ? kalp

Yukarıdaki kelimeler sözlük sırasına göre sıralanmıştır.

Buna göre " ? " işareti ile gösterilen yere aşağıdaki kelimelerden hangisi yazılmalıdır?

- A) Kalas B) Kalem
C) Kanepe D) Kaş

- 2) Aşağıdaki cümlelerin hangisinde sebep-sonuç ilişkisi vardır?

- A) İnsanlar için besinler önemlidir.
B) Bir yılda dört kez tatile gitti.
 C) Ayağı kırıldığı için yürüyemiyor.
D) Hayvanat bahçesi evlerine uzaktı.

- 3) "boş" kelimesi aşağıdaki cümlelerden hangisinde "dolmuş" kelimesinin zıt anlamı olarak kullanılmıştır?

- A) Boş sözlerle herkesi kandırıyordu.
B) Boş boş konuşup duruyordu.
 C) Dolabın boş olduğunu görünce üzüldü.
D) Herkesi kırmasından boş bir insan olduğu belliydi.

- 4) Aşağıdaki eş sesli sözcükleri diğer anlamlarıyla cümle içinde kullanalım.

Evin bahçesine kuyu kazdılar.

Bahçedeki karpuz çok ses çıkarırdı.

Esra'nın dedesi hala sağ mı?

Yolun sağ tarafından gidelim.

Sınıftaki herkes en az bir dil biliyordu.

Dilimiz tat almamızı sağlar.

SOSYAL BİLGİLER

1) Aşağıdaki cümlelerden doğru olanların başına D ,yanlış olanların başına Y yazınız.


- (D) Doğal afetleri önleyemeyiz ancak tedbirlerle etkisini azaltabiliriz.
(Y) Fiziki haritalarda dağlar yeşil renk ile gösterilir.
(D) Ülkemiz dünyanın önemli deprem kuşaklarından biri üzerinde yer alır.
(Y) Hava sıcaklığı metre ile ölçülür.
(Y) Deprem sırasında en güvenli yerler pencere önü ve balkonlardır.


2) Aşağıdaki eşleştirmeleri yapınız.

1. Yağmur → (...) Doğal unsur
2. Ova → (...) Hava olayı
3. Sel → (...) Yön bulma
4. Kutup Yıldızı → (...) Doğal afet

FEN BİLİMLERİ

1) Aşağıdaki boşlukları doldurunuz.

1 
Birbirlerine iter..... kuvveti uygular

2 
Birbirlerine iter..... kuvveti uygular

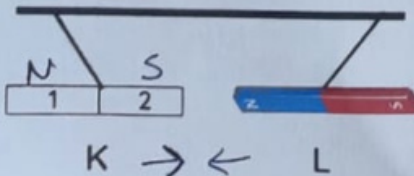
2) Miknatısların hayatımızdaki kullanım alanlarına 5 örnek yazınız.

- 1) Pusulalar
2) Banka ve metro kartları
3) Kapı zili
4) Yükleme vinci
5) Oyuncaklar

2) Aşağıdaki cümlelerden doğru olanların başına D ,yanlış olanların başına Y yazınız.

- (D) Miknatıslar kapı zillerinde bulunur.
(Y) Spor yapanlar, sigara ve alkolden etkilenmezler.
(Y) İki parçaya ayrılan miknatısın kutupları kaybolur.
(D) Miknatısın cisimlere uyguladığı kuvvet temas gerektirmeyen kuvvettir.
(Y) Proteinler, yalnızca hayvansal besinlerde bulunur.
(D) Son kullanma tarihi, besinden besine farklılık gösterir.
(Y) Cisimlere hareket yönünün tersine kuvvet uygularsak cisim hızlanır.
(D) Miknatıs bazı elektronik eşyalara zarar verir.
(Y) Oyun hamuru esnek bir maddedir.
(D) Futbolcunun kendine doğru gelen topa vurması yön değiştirme hareketidir.

3) K ve L miknatısları konumdaki gibi asılı kaldığına göre hangi ifade doğrudur?



İpler yaklaştırmış

- A)

1	2	Kuvvet
N	S	itme
S	N	çekme
N	S	çekme
S	N	itme
- B)

1	2	Kuvvet
S	N	çekme
N	S	çekme
N	S	itme
S	N	itme
- C)

1	2	Kuvvet
N	S	çekme
S	N	çekme
N	S	itme
S	N	itme
- D)

1	2	Kuvvet
S	N	çekme
N	S	çekme
N	S	itme
S	N	itme