

TEK-ÇİFT YENİ NESİL SORU

SALİH
YAVUZ



87 TL



91 TL



98 TL

Arkadaşları salih'e doğum gününde fiyatı çift sayı olan pastayı almak istiyor. Bu Bu bilgilere göre hangi pastayı alacaklardır?

A)



B)

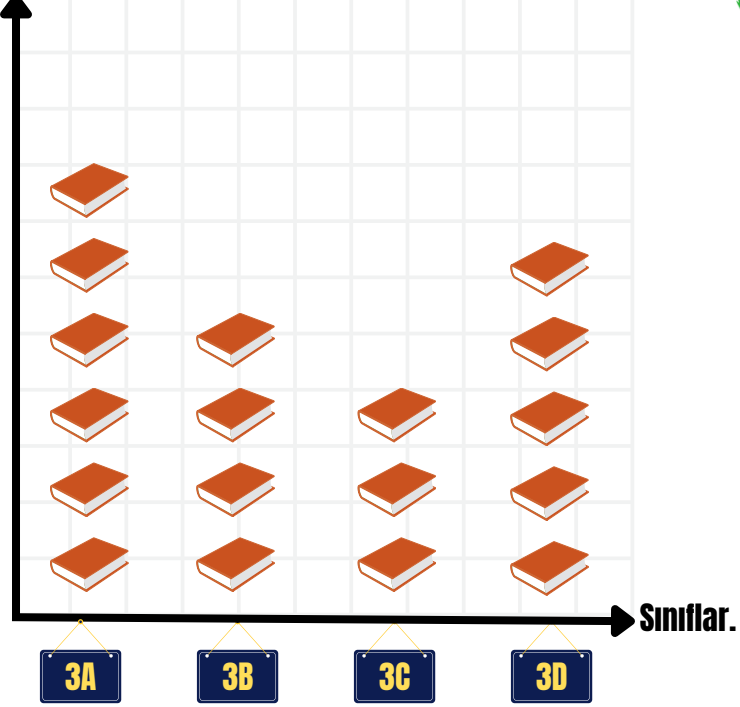


C)



VERİ-GRAFİK-TABLO

Soru sayıları.



Her kitap 5 soruyu temsil etmektedir.



Bir ilkokulda sınıfların kaç soru çözdüğü yandaki şekil grafiğinde belirtilmiştir.

Buna göre:

A) Bu okulda en çok soru çözen sınıf hangisidir ve kaç soru çözmüştür?

B) Bu okulda en az soru çözen sınıf hangisidir ve kaç soru çözmüştür?

C) Bu okulda Bu okulda toplam kaç soru çözülmüştür?

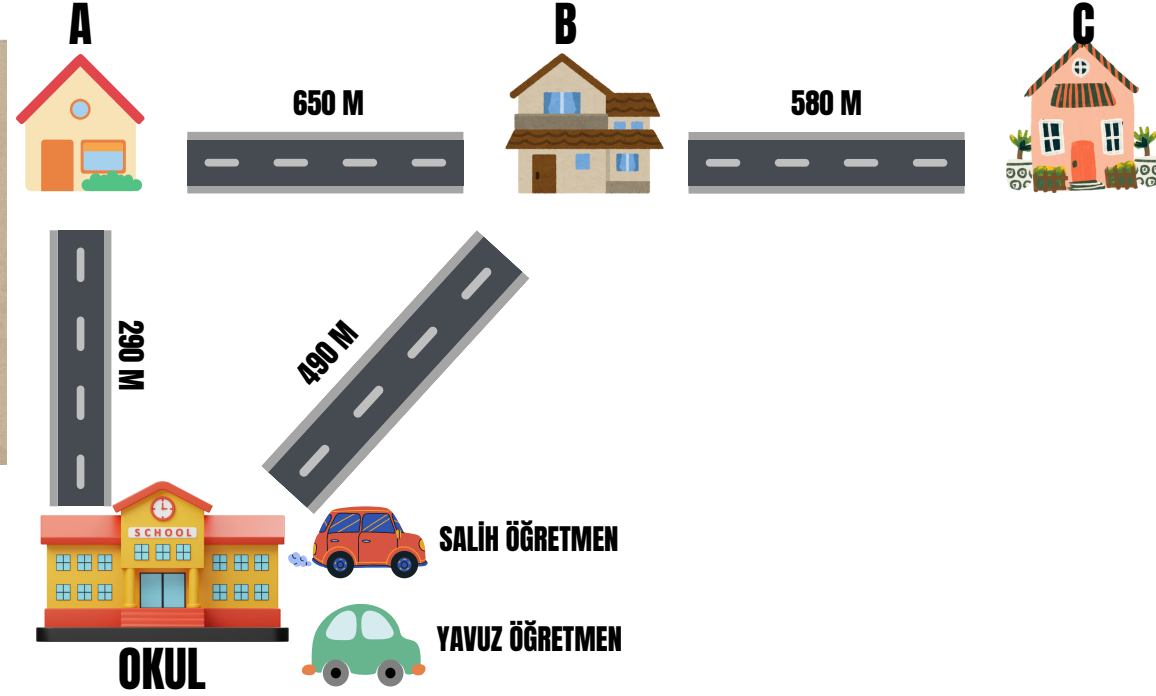
D) En çok soru çözen ile en az soru çözen sınıfların soru sayıları farkı kaçtır?

PROBLEMLER

Salih öğretmen ve Yavuz öğretmen veli ziyaretlerine gitmek için arabalarına biniyorlar.

Salih öğretmen sadece c evindeki öğrenciye ziyarete gidecektir.

Yavuz öğretmen ise önce a'ya sonra ise b'ye ziyarete gidecektir.

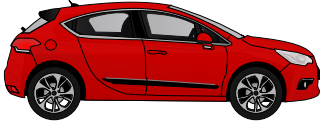


A) Salih öğretmen kaç metre mesafe gitmiştir?

B) Yavuz öğretmen kaç metre mesafe gitmiştir?

C) Salih öğretmen Yavuz öğretmenden kaç metre fazla yol almıştır?

424 TL



179 TL

450 TL



137 TL

438 TL



205 TL

Bu arabalar bu köprülerden geçmek zorundadır.

Her sürücünün kendine ait bir parası ve geçeceği köprünün belli bir ücreti vardır.

Bu araçlar köprülerden geçtikten sonra ödeme yapacaklar.

Köprüleri geçtikten sonra hangisinin parası diğerlerinden daha fazladır?

A)



B)



C)





3/A sınıfı öğrencileri Ramazan bayramı'nda toplanıp evlere giderek şeker topluyorlar.

3 evden toplam 227 tane şeker toplayan çocuklar B evinden kaç tane şeker almıştır?

